

# 6

## 確認問題

### 平行と合同(1)

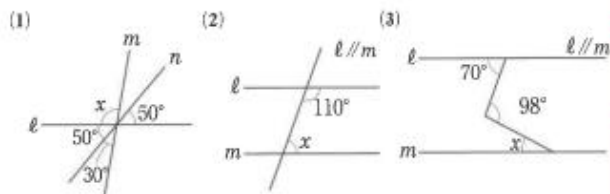


学習した日	
/	/
( )分	( )分

#### 要点 1 平行線と角

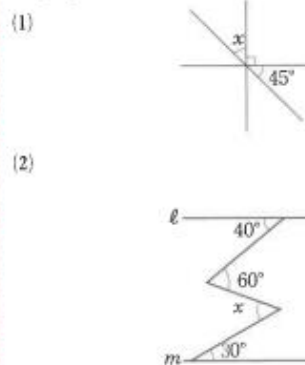
必修ランク▶▶▶ (A) (B) (C)

◆ 次の図の $\angle x$ の大きさを求めなさい。



#### ポイント例題

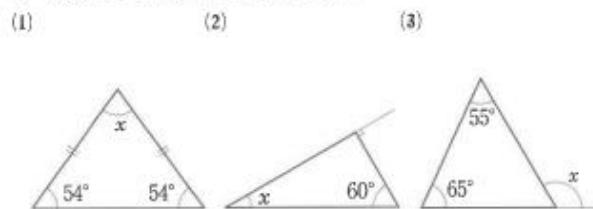
◎ 次の図の $\angle x$ の大きさを求めなさい。



#### 要点 2 三角形の角

必修ランク▶▶▶ (A) (B) (C)

◆ 次の図の $\angle x$ の大きさを求めなさい。



#### ポイント例題

◎ 次の図の $\triangle ABC$ について答えなさい。

- (1)  $\angle x$ の大きさを求めなさい。  
 (2)  $\triangle ABC$ は、鋭角三角形ですか、鈍角三角形ですか。

